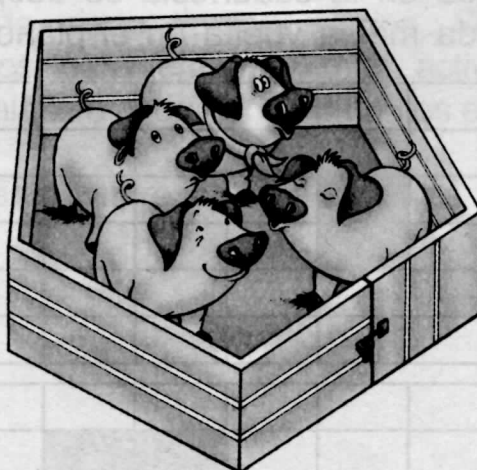


39. Carolina entró a 2 de cada 3 actividades que ofrece el parque. Si el parque ofrece 12 actividades, ¿a cuántas entró Carolina?


- A. 23 actividades.
- B. 24 actividades.
- C. 8 actividades.
- D. 4 actividades

40. El siguiente es un dibujo del corral donde tienen los cerdos del parque temático.




¿Cuál de las siguientes figuras tiene forma semejante a la del corral?


A.



B.



C.



D.

